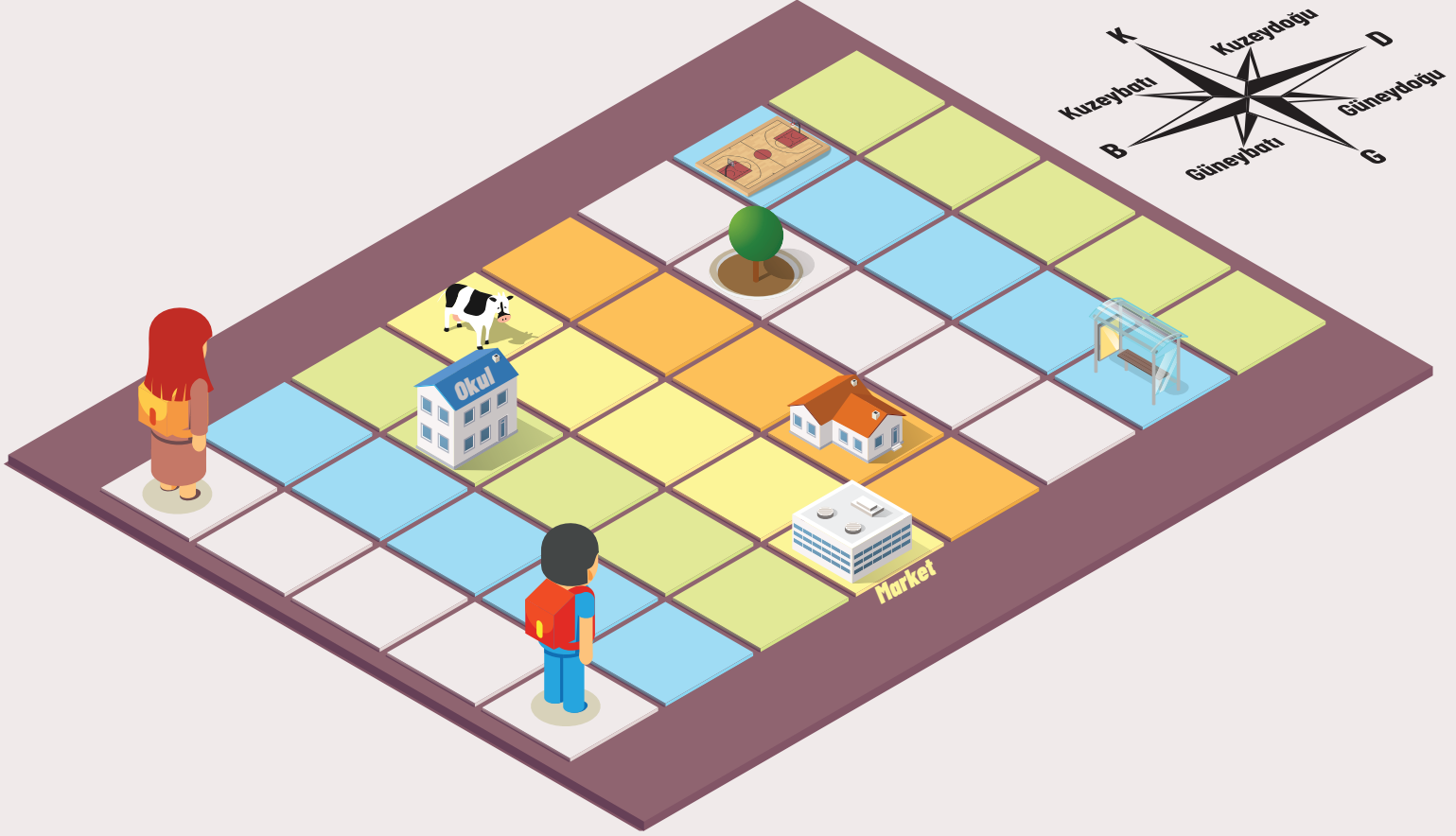


İNSANLAR, YERLER VE ÇEVRELER

Yönleri Öğreniyorum

Bil-Bul Uygula 1


Ali ve Selin yeni taşındıkları mahallelerinde bazı yerlerin nerede olduğunu henüz bilmiyorlar. Onlara bu yerleri bulmalarında yardımcı olunuz. Bunun için aşağıdaki boşlukları doldurunuz.



- Ali, üç kare kuzeye gider ve ardından doğuya dönüp iki kare daha giderse ulaşır.
- Selin, üç kare doğuya giderse ulaşır.
- Ali, iki kare kuzeye ilerler sonra dönüp kare daha giderse ağacın gölgesinde dinlenebilir.
- Ali, üç kare doğuya giderse ulaşır.
- basket oynamak için dört kare güneye ve daha sonra altı kare doğuya gitmesi gerekir.
- Selin, markete gitmek için kare güneye gittikten sonra doğuya dönmesi ve üç kare ilerlemesi gerekir.

Hale öğretmenleri tarafından ülkemize katkı sağlayan bilim insanlarından olan Aziz Sancar ile röportaj yapması için seçilmiştir. Aziz Sancar ile röportaj yapabilmek için sekreterine ulaşmıştır. Sekreteri de röportaja ön hazırlık olarak Hale'ye Aziz Sancar'ın bir sözünün ipucu olarak verildiği bulmacayı röportaj gününe kadar çözmesini istemiştir. Aziz Sancar ile röportaj yapacağı için heyecanlı olan Hale bulmacayı çözerken zorlanmıştır.

Hale'nin Aziz Sancar ile röportaj yapması için ön hazırlığına yardım ediniz.



1.



Hiçbir kaynak sınırsız değildir. Bu nedenle kaynaklarımızı kullanırken tasarruflu olmalıyız. Çünkü dünyamızı bekleyen tehlikelerden biri de doğal kaynakların tükenmesidir.

Ahmet Öğretmen'in verdiği bilgilere göre aşağıdakilerden hangisi söylenemez?

- A) Doğal kaynakların tükenmesi tüm dünyayı etkileyecek bir tehlikedir.
- B) Doğal kaynaklar sınırlıdır.
- C) Kaynaklarımızı tasarruflu kullanmalıyız.
- D) Kaynakların kullanımı tümüyle yasaklanmalıdır.

2. Bütçe oluştururken aşağıdakilerden hangisini yapmamalıyız?

- A) Öncelikle zorunlu ihtiyaçlarımızı karşılamalıyız.
- B) Tasarruf yapmalıyız.
- C) Gezmek ve eğlenmek gibi isteklerimize öncelik vermeliyiz.
- D) İsteklerimizden önce ihtiyaçlarımızı karşılamalıyız.

3.



Buzdolabı, televizyon, çamaşır makinesi gibi dayanıklı ürünlerin değişimi ya da iadesi için gerekli olan belgeyi mutlaka istemeliyiz.

Damla'nın bahsettiği belge aşağıdakilerden hangisidir?

- A) Not defteri
- B) Garanti belgesi
- C) Diploma
- D) Nüfus cüzdanı

4. Aşağıdaki ailelerden hangisinin gelir-gider dengesini daha çok sağladığı söylenebilir?

| | Gelir | Gider |
|----|---------|---------|
| A) | 4000 TL | 3950 TL |
| B) | 5000 TL | 5000 TL |
| C) | 4500 TL | 3500 TL |
| D) | 5500 TL | 5490 TL |

- 5. 1. Hatalı ürünleri iade etmek ve değiştirebilmek.
- 2. Vatandaşlık görevimizi yerine getirmek.
- 3. Tasarruf yapmak.

Fiş ya da fatura almamızın nedenleri arasında yukarıdakilerden hangileri yer alır?

- A) 1 ve 2
- B) 1 ve 3
- C) 2 ve 3
- D) 1, 2 ve 3

Ünite Değerlendirme Sınavı

5. Aşağıdaki ifadelerden doğru olanların başına "D" yanlış olanların başına "Y" yazınız.

- Çocuk Hakları Sözleşmesi sadece Amerika'da yaşayan çocuklar için geçerlidir.
- 20 Kasım günü tüm dünyada Çocuk Hakları Günü olarak kutlanmaktadır.
- Aile içinde alınan sorumluluklar yeterlidir, okulda sorumluluğa gerek yoktur.
- Herkes üzerine düşen sorumlulukları yaparsa toplum huzurlu olur.
- Bağımsız bir ülkede yaşamak çok zordur.
- Dünyada çocuk haklarının takibi ve korunması amacıyla UNESCO kurulmuştur.
- Engelli çocukların özel bakım ve ihtiyaçları karşılanmalıdır.
- Her çocuğun eğitim alma hakkı vardır.
- Her çocuk, doğuştan itibaren isim alma, anne ve babasını tanıyıp bilme ve onlar tarafından bakılma hakkına sahiptir.

6. Aşağıda verilen sorumlulukların ait olduğu alanı belirleyerek, başındaki harfleri ilgili alana yazınız.

a. Ağaçlara zarar vermemek.

b. Sofra hazırlarken yardım etmek.

c. Söz hakkı olarak derse katılmak.

d. Çöpleri çöp kutusuna atmak.

e. Yatağımızı düzeltmek.

f. Zil çalınca sınıfa girmek.

AİLE

OKUL

ÇEVRE

1. Aşağıda öğrencilerin yerine getirdiği sorumluluklar verilmiştir.

| Öğrenciler | Sofra hazırlamaya yardım etmek | Okulda sırasını düzenli tutmak | Yatağını toplama | Öğretmenlerine ve arkadaşlarına saygılı olma |
|------------|--------------------------------|--------------------------------|------------------|--|
| Ahmet | X | | X | X |
| Bilal | X | | | X |
| Cemre | | X | X | |
| Duru | X | X | | |

Verilen sorumluluk tablosuna göre aşağıdakilerden hangisi doğrudur?

- A) Cemre, okuldaki sorumluluklarına özen göstermektedir.
- B) Bilal, hem okuldaki hem de evdeki sorumluluklarının bilincindedir.
- C) Duru, okuldaki sorumluluklarını yerine getirmektedir.
- D) Ahmet, ev içinde üstlendiği sorumlulukların farkındadır

2.

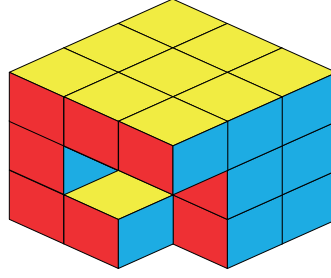


Merhaba arkadaşlar. Bu sene Afrika'da suya ulaşamayan çocuklar için kuyu açılmasına yardım eden bir projeye destek vermek için afişler hazırladım. Afişleri etrafımdaki kişilerle paylaşarak proje için yardım topladım.

Emre bu çalışmasıyla okuldaki kulüplerden hangisine katkı sağlamıştır?

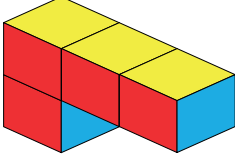
- A) Akıl Oyunları Kulübü
- B) Çevre Kulübü
- C) Sosyal Yardımlaşma ve Dayanışma Kulübü
- D) Sivil Savunma Kulübü

7.

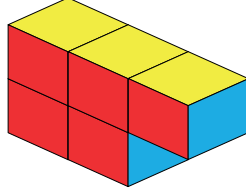


Aşağıdakilerden hangisi yukarıdaki şekli tamamlayan parçadır?

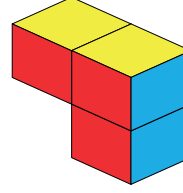
A)



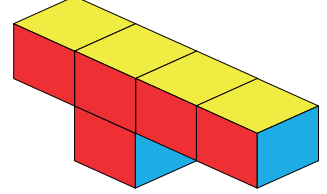
B)



C)



D)



8.



Yukarıdaki saat 03.35'i göstermektedir. Akrep ve yelkovanı, saat yönünün tersine 90 derece döndürürsek saat kaç olur?

A) 10.20

B) 12.20

C) 14.20

D) 18.25