

Bil-Bul Uygula 3

Aşağıda numaralandırılmış olan görsellerden uygun olan hareket çeşidini kutucuklara yazınız.




①

②

③

Yukarıdaki görselde verilmeyen diğer hareket çeşitleri nelerdir?

1 numaralı çark sol yönden kuvvet uygulanarak hareket ettirilmeye başlanıyor. Tüm çarkları izleyerek 2, 3, 4, 5, 6 ve 7 numaralı çarkların hangi yönde hareket ettiklerini kutucuklara çiziniz. Çarklara kazandırılan hareket özelliğini yazınız.



1	2	3	4	5	6	7

1. Gaz maddeleri gözümüzle göremeyiz. Ancak duyu organlarımızla algılayabiliriz.

Aşağıdaki duyu organlarından hangisi gaz maddeleri algılamamızda diğerleri kadar etkili değildir?

- A) Dil B) Deri C) Burun

2. Aşağıda katı, sıvı ve gaz maddelere örnekler verilmiştir. Hangisinde hatta yapılmıştır?

	Katı	Sıvı	Gaz
A)	Yüzük	Ayran	Su buharı
B)	Pirinç	Süt	Helyum
C)	Hamur	Soda	Reçel

3. Zeytinyağı ve sirke gibi maddeler sıvı haldedir.

Yapıştırıcı, boya, cila vb. maddeleri koklamak insan sağlığını olumsuz etkiler.

Katı maddeleri hangi kaba koyarsanız o kabın şeklini alır.

Yukarıdaki hangi renk kutularda verilen bilgiler doğrudur?

- A)  B) 
C) 

4.

Yandaki görselde dondurmanın hangi hallerini gözlemleyebiliriz?



- A) KATI - SIVI B) SIVI - GAZ
C) KATI - GAZ


5.



Yukarıdaki görselle ilgili olarak söylenen cümlelerden hangisi yanlıştır?

- A) Maddenin üç halini göremeyiz.
B) Katı maddelerin sayısı daha fazladır.
C) Maddenin gaz halini yalnızca bir maddede gözlemleyebiliyoruz.

6.



Dalgıçların kullandığı tüplerde maddenin hangi halini göremeyiz?

- A) Katı B) Sıvı C) Gaz

Ünite Değerlendirme Sınavı

5. Aşağıdaki tabloyu, uygun olanları işaretleyerek doldurunuz

	Canlı	Cansız	Ürer	Büyür	Hareket eder	Solunum yapar	Boşaltım yapar	Beslenir	Tepki verir
Kedi									
Balık									
Uçak									
İnsan									
Papatya									
Ağaç									
Solucan									
Kalem									

6. Aşağıdaki metni okuyarak içinde geçen doğal ve yapay çevre örneğini kutulara yazınız.

3.sınıfın son zamanlarına girdiğimiz bu günlerde öğretmenimiz bizi yaşadığımız şehirde gezdirmek için bir gezi düzenledi. Sabah servislere binip Belgrad Ormanlarında yürüyüş yaptık ardından kahvaltımızı piknik alanlarında yapıp tekrar yola çıktık. İlk önce Eyüp Sultan Camisini gezdik. Ardından Tarihi Mısır Çarşısı'na gittik. Orada yine tarihi Yeni Cami'yi gördük. Öğle saatleri olmuştu. Birer balık ekmek alıp boğaz turuna çıktık. İstanbul Boğazi'nde yol alırken gördüğümüz tepeler, kollar çok güzeldi.

Bir sonraki gezimizde Arkeoloji Müzesi, Topkapı Sarayı ,Gülhane Parkı ve Sultannahmet Cami ile Yerebatan Sarnıcı'na gitmeye karar verdik.

Doğal Çevre

Yapay Çevre

1.



Türkiye'nin en büyük milli parkı olan Ağrı Dağı Milli Parkı, yerleşik hayata geçen göçmen kuşlarla renklendi.

İğdir sınırlarındaki milli park, kuş çeşitliliği açısından yurdun en zengin noktaları arasında yer alıyor.

150 kuş çeşidinin yaşadığı milli park, yılın her mevsiminde göçten dönen ve göç etmeden kalan kuşlara ev sahipliği yapıyor.

Özellikle angıt, saz horozu, sakarmeke, balıkçıl, karabatak, düdükçün, yeşilbaş ördek, çamurcun gibi kuş türlerinin bulunduğu milli parktaki sulak alanlar, göç etmeyerek yerleşik hayata geçen kuşlarla şenlendi.

Ağrı Dağı Milli Parkı ile ilgili verilen gazete haberinden aşağıdakilerden hangisi çıkarılamaz?

- A) Yurdun en zengin kuş çeşitlerini barındırıyor.
- B) Sadece göç eden kuşlar uğruyor.
- C) Az sayıda kuş türü uğruyor.

2. 'Ömer, öğretmenin sorduğu soruya "denizler,göller,dağlar" cevabını vermiştir.'

Buna göre Ömer'in öğretmenin sorduğu soru aşağıdakilerden hangisidir?

- A) Yapay çevre örnekleri nelerdir?
- B) İnsanlar rahatlamak için nasıl yerlerde tatil yaparlar?
- C) Doğal çevre örnekleri nelerdir?

3.



Bitkiler karanlıkta da çimlenir.

Bitki ışsız ortamda büyüyemez.



Bitkilerin tamamı aynı süre yaşar.

Bitkiler her sıcaklıkta çimlenebilir.



Yukarıdaki öğrencilerden hangilerinin verdiği bilgiler doğrudur?

- A) Ayşe ve Ahmet
- B) Ahmet ve Sıla
- C) Mehmet ve Ayşe

8.

8		5	11		1
	7			5	
3		7	7		2
12		1	8		1
	0			?	
13		2	8		4

"?" yerine aşağıdaki sayılardan hangisi gelmelidir?

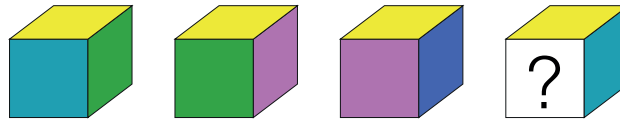
A) 1

B) 3

C) 4

D) 7

9.



Yukarıdaki görseller bir mantığa göre hareket etmektedir.

Buna göre boş bırakılan yere aşağıdaki hangi renk gelmelidir?

A) B) C) 